

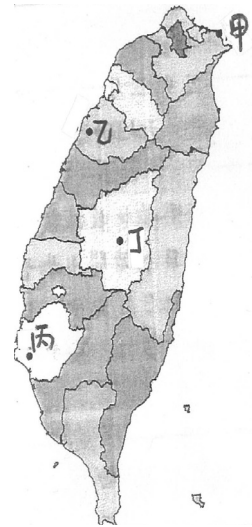
高雄市立正興國中 100 學年度第二學期第 1 次段考一年級社會科試題卷

科目代碼：05

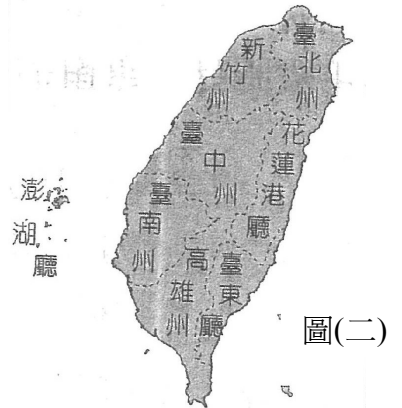
※歷史科※

選擇題：30% (1~10 題，每題 1 分；11~20 題，每題 2 分)

- () 1. 清朝曾因越南問題而爆發中法戰爭；又因哪一問題而引發甲午戰爭？
(A) 琉球 (B) 台灣 (C) 朝鮮 (D) 香港。
- () 2. 日本治台時間長達 50 年，歷任總督共 19 位，首任總督是何人？
(A) 伊藤博文 (B) 樺山資紀 (C) 後藤新平 (D) 八田與一。
- () 3. 承上題，總督握有各項大權，形成專制的統治，哪一項權力是最晚取得的？
(A) 行政 (B) 立法 (C) 司法 (D) 軍事。
- () 4. 小丸子一家人來到圖(一)中某地旅遊，導遊提到了當地在日據時代曾發生了規模最大、犧牲人數最多的抗日行動。由此可知，他們所到的地點是圖中的何處？ (A) 甲 (B) 乙 (C) 丙 (D) 丁。
- () 5. 台灣最早於何時就已利用「保甲」制度來協助政府維持治安？
(A) 荷治時期 (B) 鄭氏時期 (C) 清領時期 (D) 日治時期。
- () 6. 承上題，關於此項制度的相關敘述，何者有誤？ (A) 以十戶為一甲，十甲為一保 (B) 成員間負有連坐責任制 (C) 與警察制度配合，嚴密控制社會秩序 (D) 是地方行政的中心。
- () 7. 陳光輝是日治後期的台籍青年，為了配合政府政策，他改名字為友寄隆輝，還接受徵召入軍伍服務，日本推動此項政策是為因應哪一戰爭的爆發？
(A) 甲午戰爭 (B) 中日戰爭 (C) 第一次世界大戰 (D) 日俄戰爭。
- () 8. 日本治台某時期以文官出任總督，並標榜「日台合一」的觀念，此一階段的治台政策應為下列何者？
(A) 漸進主義 (B) 無方針主義 (C) 內地延長主義 (D) 皇民化政策。
- () 9. 承上題，在此期間曾爆發重大武裝抗日行動，主要領導人物應是下列何人？
(A) 莫那魯道 (B) 羅福星 (C) 劉永福 (D) 余清芳。
- () 10. 哪一事件後，台灣人開始以非武裝抗日對抗統治者？
(A) 牡丹社事件 (B) 噶吧哖事件 (C) 霧社事件 (D) 苗栗事件。
- () 11. 灰太郎在書中看到一張台灣行政區圖(如圖(二))，他對此一時期的認知，哪一項敘述才是正確的？ (A) 當時最高行政長官為台灣巡撫 (B) 此階段的統治到第一次大戰後結束 (C) 台灣當時最具代表性的產業是樟腦 (D) 地方行政欠缺自主及自治權。
- () 12. 台灣總督府由「農業台灣」的經濟政策轉而推動工業化，是為了配合哪一項政策的需要？
(A) 南進政策 (B) 皇民化政策 (C) 西進政策 (D) 民族自決原則。
- () 13. 承上題，為了配合此項政策而有下列哪一項建設的推動？ (A) 興建嘉南大圳 (B) 完成西部縱貫鐵路 (C) 建造日月潭發電所 (D) 實施人口普查。
- () 14. 台灣自中法戰後正式建省、歷任巡撫中並不包括下列何人？
(A) 劉銘傳 (B) 沈葆楨 (C) 唐景崧 (D) 邵友濂。
- () 15. 歷史課時老師介紹了日治時期的各項發展，請同學們分別說出一項此時期的「創舉」，則下列哪一位同學所言才是正確的？ (A) 上豪：最先設立郵政總局於台北 (B) 祥宏：最早興建鐵路由基隆到高雄 (C) 偉明：台灣開始使用紙幣 (D) 良杰：興修大型水利工程。



圖(一)



圖(二)

- () 16.「台灣民主國」的成立是為了抗拒日本接收台灣，但在何人退回中國大陸後，此一行動正式宣告瓦解？
 (A)丘逢甲 (B)羅福星 (C)唐景崧 (D)劉永福。
- () 17.阿貴的爺爺生活在1920年代的台灣，下列哪一種情況是他不會經歷到的？ (A)到郵局去寄信給好友
 (B)看到造船、機械等工廠陸續成立 (C)搭火車到高雄去探親 (D)新品種的「蓬萊米」已經培育成功。
- () 18.日治初期，總督府以「工業日本、農業台灣」為原則，致力於發展台灣的哪兩大產業？
 (A)茶葉、稻米 (B)鴉片、樟腦 (C)蔗糖、稻米 (D)蔗糖、鹿皮。
- () 19.派大星利用星期假日出遊，來到台灣第一座新式糖廠參觀，他應該是到了哪裏？
 (A)屏東 (B)高雄 (C)台南 (D)嘉義。
- () 20.下列有關日治時期的重大事件，請依時間先後排列：(甲)推動「工業台灣、農業南洋」政策 (乙)發布「六三法」 (丙)實施第一次人口普查 (丁)推行「內地延長主義」，正確的是？
 (A)乙丙丁甲 (B)乙丁丙甲 (C)丙乙丁甲 (D)甲乙丙丁。


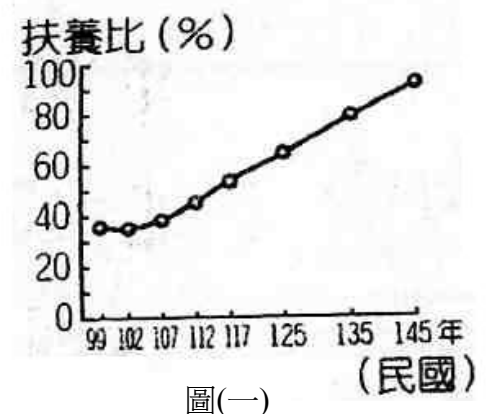
※地理科※

一、單選題：(34%，每題2分)

- () 21.請問政府可以透過下列哪一項計劃措施有效解決台灣人口分布不均的情形？ (A)多開放外籍勞工來台
 (B)做好全民健保工作 (C)於山坡地開闢新社區 (D)加強鄉村的公共建設。
- () 22.影響台灣人口分佈不均的現象，與下列何項因素較「無關」？
 (A)地形 (B)雨量分布 (C)經濟發展 (D)開發早晚。
- () 23.台灣近幾十年來，為了降低生產成本，許多企業或家庭引進了外籍勞工，而這些外籍勞工最主要來自於下列哪些國家？(甲)澳洲 (乙)印尼 (丙)越南 (丁)印度 (戊)菲律賓，上述正確的是
 (A)丙丁戊 (B)甲乙丁 (C)乙丙戊 (D)甲丁戊。
- () 24.某校的人口性別比為72，則可由此看出該校哪些人口方面的特徵？(甲)該校女生多於男生 (乙)該校男生多於女生 (丙)該校男、女生的人數比例明顯失衡 (丁)該校男、女生人數比例大致平衡 (戊)該校男性用品較女性用品更具市場潛力。上述正確的是 (A)甲丁戊 (B)甲丙 (C)乙丁 (D)丙戊。
- () 25.右圖(一)為民國99~145年台灣扶養比推估圖，造成圖中扶養比曲線如此變化的趨勢主要原因是？ (A)人力資源過剩 (B)死亡率大幅降低 (C)近年來出生率降低 (D)男女性別比例失衡越趨明顯。
- () 26.下表(一)為甲、乙、丙、丁四地的緯度與地形高度資料，若僅依自然條件而論，請問何地能夠生長出最多樣的水果種類？
 (A)甲地 (B)乙地 (C)丙地 (D)丁地。

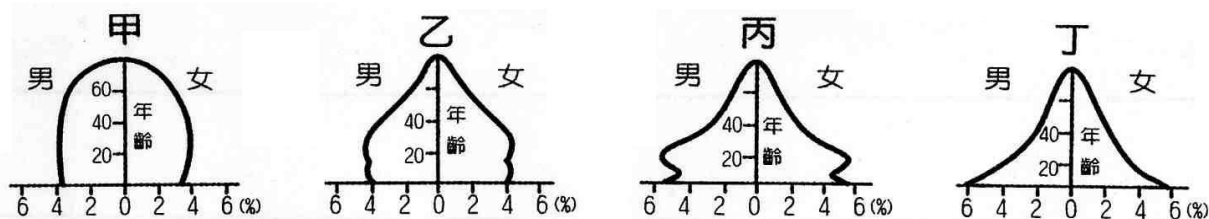
	緯度	地形
甲地	12°S	山地
乙地	35°N	平原
丙地	56°N	丘陵
丁地	42°S	台地

表(一)



- () 27.右圖(二)為甲、乙、丙、丁四國的人口年齡結構資料，依據圖中資料判斷，哪一國的經濟負擔最沈重？
 (A)甲 (B)乙 (C)丙 (D)丁。
- () 28.請問下列何者「不是」台灣農業的特徵？ (A)農產品商品化
 (B)集約經營 (C)作物多樣化 (D)推行電腦網路行銷。
- () 29.畜牧業的主要類型有游牧、放牧、山牧季移和欄牧四種，而台灣的畜牧業則以欄牧為主，主要原因是？
 (A)台灣在欄牧方面較具專業水準 (B)台灣地形過於崎嶇 (C)受到土地面積的限制 (D)可促進山坡地之水土保持工作。

- () 30.台灣於2002年加入世界貿易組織，以致傳統的農、林、漁、牧等產業，面臨國際競爭之壓力，因而紛紛轉型因應，請問下列何者「不符合」上述之轉型措施？ (A)發展休閒牧場 (B)發展觀光漁業 (C)增加稻田面積 (D)發展精緻農業。
- () 31.甲國從事一、二、三級產業的人口比例依序為7%、38%、58%，而乙國則依序為59%、21%、19%，由上述資料可判斷出何項資訊？ (A)乙國人口分布較均勻 (B)甲國經濟發展程度較佳 (C)乙國人力資源較充足 (D)甲國耕地面積比乙國大。
- () 32.台灣近年來許多花卉、蔬果等專業生產區紛紛設立，且這些農產品大多輸往都市或國外，具有商品化之特徵，請問上述現象之發展和下列何項因素關係最密切？ (A)台灣近年來頻頻加入國際貿易組織 (B)為適應近年來全球氣候異常之現象 (C)為降低環境之污染程度 (D)因交通較以往便捷。
- () 33.政府的林業政策因昔日過度砍伐而調整，而目前的森林資源在何種原則下充分被利用？ (A)兼顧保育、永續經營 (B)砍伐平衡 (C)林地可改種較具經濟價值的農作物 (D)林地可適度開闢為住宅區以舒解平地住宅過度擁擠之壓力。
- () 34.下列為甲、乙、丙、丁四國的人口金字塔圖，請問，哪一國的老人安養計劃措施最為迫切？ (A)甲 (B)乙 (C)丙 (D)丁。



- () 35.承上題，若依經濟發展程度的高低而言，哪一國的經濟發展程度最低？ (A)甲 (B)乙 (C)丙 (D)丁。
- () 36.明傑的爺爺在郊區經營了一座牧場，飼養了一群乳牛，供應居民鮮乳或乳製品的需求。請問明傑的爺爺從事哪一種產業？ (A)放牧業 (B)欄牧 (C)酪農業 (D)有機牧業。
- () 37.當一地具有較多的工作機會，較好的醫療服務，較優的教育資源，較完善的公共設施，便能吸引更多的外地人移入，請問下表(二)中何地的資料最符合上述地區的實況？ (A)甲 (B)乙 (C)丙 (D)丁。

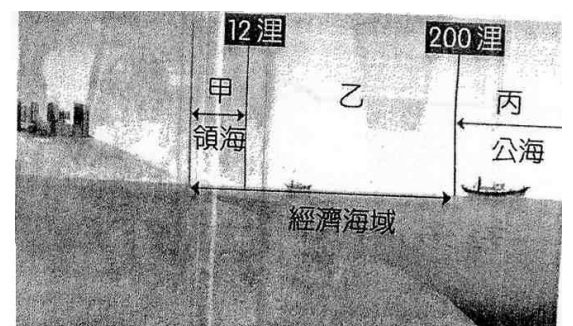
	甲	乙	丙	丁
出生率(‰)	21	20	23	19
死亡率(‰)	7	3	6	5
人口增加率(‰)	6	24	11	13

表(二)

二、題組：6%（每題 2 分）

右圖(三)為台灣地區捕撈漁業分布圖，請回答下列各題

- () 38.台灣每年4~6月順著黑潮北上被捕獲的黑鮪魚，主要是屬於哪一區段海域？ (A)甲 (B)乙 (C)丙 (D)乙丙皆是。
- () 39.近年來，台灣甲、乙區段海域所發生的明顯漁業危機是？ (A)因發展觀光漁業，污染海水 (B)因氣候異變，魚源減少 (C)因過度捕撈，將面臨魚源枯竭窘境 (D)因配合政府發展觀光漁業，限制捕撈作業。
- () 40.下列何項因素「不是」台灣發展捕撈漁業的有利條件？ (A)海岸線長，港灣，島嶼眾多 (B)有寒暖流交會 (C)有溫暖溼潤的氣候 (D)大陸棚廣大。



圖(三)

※公民科※

選擇題：1~10 題每題 2 分，11~20 題每題 1 分

- () 41.阿華經常在上學途中看到有人插隊上公車，或是在公車上講手機時音量過大的現象，因此國人需要加強哪一種基本素養？ (A)遵守法律 (B)公德心的培養 (C)社會正義 (D)志工精神。
- () 42.每個人從一出生就透過各種教育方式學習知識、技能和規範等。請問：這種學習過程的主要目的在於下列何者？
(A)強調傳統回歸過去 (B)凸顯自我存在價值 (C)適當的扮演自己的角色 (D)苟延殘喘地度過餘生。
- () 43.「新聞報導一群青少年模仿某電視連續劇的情節，除了自組幫派，還犯下暴力及恐嚇取財之犯罪行爲。」由上述可知，下列哪些社會化的途徑所造成的影響也很重要？ (甲)學校 (乙)傳播媒體 (丙)家庭 (丁)同儕團體 (A)甲、乙 (B)丙、丁 (C)乙、丙 (D)乙、丁。
- () 44.積極參與公眾事務，可以維護大眾權益。下列何人具有維護公眾利益的素養？ (A)林書豪今年初打算到義大利打球，他一定遵守合約內容 (B)陳媽媽參加慈濟慈善事業基金會並擔任志工 (C)阿建每天溜狗時都會主動清理排泄物 (D)林同學利用暑假到速食餐廳打工。
- () 45.台北市景美女中靠著無比的默契與練習，今年二月參加蘇格蘭世界盃拔河比賽與英格蘭爭奪冠亞軍，以優秀成績勇奪冠軍；接下來也參加在義大利羅馬舉行的世界盃拔河錦標賽，擊敗勁敵大陸隊，奪下冠軍。上述之說明中，可以看見哪兩種社會互動模式？ (A)衝突、競爭 (B)競爭、順應 (C)合作、衝突 (D)合作、競爭。
- () 46.陶喆在父親陶大偉的耳濡目染下，喜愛音樂，長大後也成為創作型歌手。上述例子可說明下列哪一件事？ (A)傳播媒體的力量無遠弗屆 (B)家庭對個人的影響最深遠 (C)學校可以有系統的將知識傳授給學生 (D)青少年時期容易受同儕團體的影響。
- () 47.下列哪一項並非公益團體？ (A)創世社會福利基金會 (B)中華民國一日志工協會 (C)環境品質文教基金會 (D)臺灣團結聯盟。
- () 48.筱梅是位國中生，她對參與團體事務非常有興趣，她可以透過哪些管道來滿足她的興趣？(甲)參加社團活動 (乙)小鈺與小祥一起到書局看書 (丙)擔任學校圖書館志工 (丁)參與社區的環保活動 (A)甲乙丙 (B)乙丙丁 (C)甲乙丁 (D)甲丙丁。
- () 49.下列哪一種行爲是缺乏公德心的表現？ (A)未經許可，在科工館圍牆上塗鴉畫畫；亂丟飲料瓶 (B)裝病不去學校上課 (C)不參與校內的義賣活動 (D)不尊重別人的發言權。
- () 50.一些充斥暴力的卡通對學童的身心發展會產生不良的影響，相關研究證明，暴力卡通一經播出，馬上就會在中小學和幼稚園引發相關的暴力事件。這例子提醒我們，下列何者可能會產生負面的學習效應？ (A)家庭 (B)同儕團體 (C)學校 (D)傳播媒體。
- () 51.根據新聞報導：「美國政府對全國性的電視節目推出新的處罰措施，禁止全國性電視節目出現髒話的鏡頭，違反者將被處以鉅額罰款，甚至可以將罰款增加到十倍。」請問：美國政府增加這項新罰則，主要的原因為何？ (A)這類的節目會破壞美國形象 (B)傳播媒體應該發揮監督政府的精神 (C)避免傳播媒體在無形中對人們思想、態度、價值觀等造成負面影響 (D)政府財政狀況不佳，需要經費。
- () 52.我國自民國76年解除戒嚴後，以哪一種團體的數目增加最快？ (A)公益團體 (B)政治團體 (C)職業團體 (D)社會團體。
- () 53.在我國要發起組織「工會」以保障勞工權益，應依照《工會法》規定，由三十人以上之連署，向主管機關登記。請問：上述「工會」的結合方式應該是屬於下列何種？ (A)非正式團體 (B)正式團體 (C)公益團體 (D)政治團體。
- () 54.下列何者的行爲表現是受到傳播媒體的影響？ (A)黃海岱、黃俊雄、黃立綱祖孫三代致力於發揚布袋戲 (B)明德透過校內舉辦的模範生選舉，了解選舉的程序 (C)依新聞報導，因瘦肉精之故，進口美國牛肉將影響國內消費者之身體健康 (D)林書豪在NBA打籃球出了名，主要是受家中父母支持的影響。

- () 55.近年來，由於人民團體的蓬勃發展，有助於人民對公眾事務的積極參與，並促進社會的進步。而有關人民團體的組成，下列哪一個敘述是正確的？ (A)是人民出於自由意願所組成的 (B)可不經政府同意成立各種團體 (C)公民才具有資格參加人民團體 (D)個人不可以同時加入數個團體。
- () 56.下列有關「結社自由」的敘述，何者錯誤？ (A)人民可以自由參與團體事務，在團體內與他人交流 (B)威權獨裁國家的人民才可以享有結社自由 (C)我國《憲法》規定：「人民有集會結社之自由。」 (D)人民的結社自由並非毫無限制。
- () 57.靖娟兒童安全文教基金會與臺北中正區8所示範國小合作共同推動通學環境改善計畫，從環境分析、協調會議開始，並動用各種相關資源，在交通局與教育局的大力協助下，排除道路上的阻礙，其中已有8成的硬體環境獲得改善，讓學童能安全的走路上學。請問：靖娟兒童安全文教基金會的功能是屬於下列何者？ (A)工作取向 (B)興趣取向 (C)利益取向 (D)關係取向。
- () 58.環保團體組成的「向日葵廢核行動」，針對核四安全議題，到總統府前扮成「鴛鴦」表演行動劇，並提出「核安三問」。而上述的環保團體中有綠色公民行動聯盟、人民火大行動聯盟、臺灣人權促進會、臺灣蠻野心足生態協會、臺灣綠黨、主婦聯盟環境保護基金會、地球公民基金會等團體。請問：這些屬於下列何種團體？ (A)工作取向的團體 (B)非正式團體 (C)職業團體 (D)關係取向的團體。
- () 59.「法律扶助基金會宗旨：(1)落實憲法上的訴訟權及平等權、協助改善經濟地位；(2)保障弱勢者人權；(3)健全法治基礎。」由上述宗旨可知，「法律扶助基金會」為何種功能的團體？ (A)關係取向 (B)工作取向 (C)年齡取向 (D)興趣取向。
- () 60.下列哪些是公益團體的特徵？ (甲)屬於工作取向的團體 (乙)以促進社會經濟建設為目的 (丙)個人基於自願及興趣加入 (丁)培養服務社會的精神 (A)甲乙丁 (B)甲丙丁 (C)乙丙丁 (D)甲乙丙。