


■單一選擇題:100分(50題,每題2分)

【公民科】

1.下表是我國人口統計的部分統計資料,根據表中內容判斷,民國80年至90年間,我國人口發展最可能呈現出下列哪一項現象?(甲)生育子女個數增加 (乙)平均結婚年齡漸降 (丙)人口成長逐漸趨緩 (丁)生育功能減弱 (戊)未發揮家庭的保護與照顧功能。(A)甲乙 (B)乙丙 (C)丙丁 (D)丁戊。

民國(年)	總人口(千人)	人口成長率(‰)	當年結婚對數(千對)	總生育率(人)
80	20,557	10.0	165	1.7
85	21,471	7.9	167	1.8
90	22,339	5.6	170	1.4

2.附圖為某國過去、現在以及推算未來的老年人口與就業人口比率之變化情形。根據圖示內容判斷,下列哪一項敘述最符合某國的社會變遷趨勢?



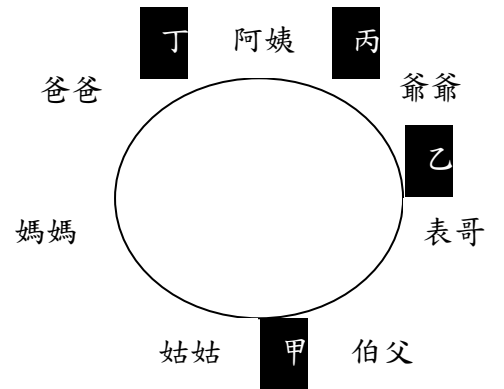
- (A)三代同堂將被三代同鄰取代 (B)就業人口的扶養負擔漸減輕
(C)大家庭將被隔代教養家庭取代 (D)老年人口不變就業人口減少。

3.下圖為承翰國調查65歲以上高齡人口居住現況資料。根據表中內容顯示,該國最有可能符合哪種現況?

居住現況	比例
僅與配偶同住	19.4%
住在安養機構	12.4%
與子女及孫子女同住	61%
其他	7.2%

- (A)多數是折衷家庭 (B)老人缺乏照顧 (C)安養機構的收費偏高 (D)與配偶同住的比例最高。

4.秀文參加家族的年度聚餐,當晚用餐座位示意圖如右。根據該圖判斷,若秀文座位兩旁都是他的旁系血親,那麼秀文應該坐在圖中哪一個位置?(A)甲 (B)乙 (C)丙 (D)丁。



5.俗話說:「貧賤夫妻百事哀」。這句話說明了貧賤夫妻的悲苦,也說明了夫妻之所以無法和睦相處是因為下列何種家庭功能無法發揮所導致?(A)生育功能 (B)經濟功能 (C)教育功能 (D)保護與照顧功能。

6.俗話說:「家家有本難念的經」。每一個家庭都會因為某些因素面臨特定問題。下列關於「家庭類型」和「家庭衝突」的配對,何者正確?(甲)核心家庭---老人安養 (乙)新移民家庭---語言隔閡 (丙)頂客家庭---婆媳問題 (丁)單親家庭---教養觀念。

- (A)甲乙丙 (B)乙丙丁 (C)甲乙丁 (D)甲丙丁。

7.由附圖對話可知,引起衝突的是下列哪一個因素?

- (A)價值觀問題 (B)生活習慣問題 (C)家務分工問題 (D)使用金錢觀念。



*題組

德華某天在自己的日記裡寫道:「8.我的父親是台灣人,母親則來自越南,9.家中除了父母親之外還有爺爺奶奶同住。由於父母年齡差距很大,因此,父親對於年紀較小的母親非常疼愛。父親每天早出晚歸努力在外賺錢,母親則是在家擔任家庭主婦的工作。在結婚前幾年,家人都過著幸福快樂的日子,但在我上了小學之後父母的婚姻生活就變了調。10.母親時常因為看不懂中文,無法教導我的學校功課之外,也常常因為我忘記寫功課或忘記餵爺爺奶奶吃藥而招來一頓毒打,每次都打得我全身都是傷。而媽媽每天不是在家看電視、睡覺就是上街購物亂花錢都不節省家用讓爸爸非常生氣,兩個人時常也因為這個問題時常吵架。」

8.根據上述短文,德華的家庭稱之為?(A)單親家庭 (B)兩地家庭 (C)跨國婚姻家庭 (D)隔代教養家庭。

- 9.根據上述短文，德華與父母親和爺爺奶奶同住，其家庭型態稱之為什麼？(A)血緣家庭 (B)核心家庭 (C)三代家庭 (D)聯合家庭。
- 10.根據上文，母親時常透過毒打來管教德華，導致德華身上時常遍體鱗傷。試問，若將此案件交由法院審理，認為夫妻均不適任德華的監護人，並將德華的權利義務之行使全部判給縣府。請問：德華的夫妻將被剝奪了何種權利？(A)離婚的自由 (B)生存的權利 (C)人身自由 (D)親權的行使。
- 11.根據上文，若鄰居阿承發現德華時常被母親虐待，阿承可向哪些管道請求協助？(甲)打 113 專線 (乙)打 110 專線 (丙)找縣(市)政府社會局(處) (丁)性別平等教育委員會。(A)甲乙丙 (B)乙丙丁 (C)甲乙丁 (D)甲丙丁。
- 12.下表為《民法》中有關家庭關係的條文修正對照表，表中資料哪一項錯誤？

選項	關係類型	修正前	修正後
(A)	親子扶養關係	子女應孝敬父母	子女如有被父母親家暴、遺棄等情形，可訴請法院免除或減輕扶養義務
(B)	未成年子女監護權	監護權歸父親	法院可以依照子女的最佳利益來決定監護權
(C)	子女親權	父母同時擁有子女親權	意見不一致時，由父親行使之
(D)	性別關係	父權優先	家庭中夫妻平權

- 13.小S於日前開心與大家分享即將生第三個女兒的喜悅，她在Facebook上的暱稱也改成「等待小天使的誕生，既期待又緊張。」請問：當小寶寶出生之後與小S之間具有何種關係？(A)姻親 (B)旁系血親 (C)直系血親 (D)法定血親。
- 14.阿節與阿翰從小就是鄰居，因為從小一起長大，所以感情十分要好，無論走到哪都形影不離。某天，阿翰的媽媽決定認阿節為乾兒子，讓兩人做一輩子的兄弟。請問：阿節與阿翰之間所構成的親屬關係為下列哪一種？(A)沒有關係 (B)法定血親 (C)直系血親 (D)旁系血親。
- 15.新婚的阿中和容萱，預計明年為家裡添一個小寶寶，婚後他倆將與阿中的公婆、大哥、大嫂住一起。根據前文的敘述，下列何者正確？(甲)阿中和容萱互為配偶 (乙)容萱與阿中的大嫂互稱妯娌 (丙)他們組成的家庭稱為折衷家庭 (丁)容萱和阿中的父母是姻親關係。(A)甲乙丙 (B)乙丙丁 (C)甲丙丁 (D)甲乙丁。
- 16.「姻親」是指因婚姻關係而使男女雙方的家人產生的親屬關係。鄭秀雯和許治安結婚後，依我國《民法》的規定，下列哪一組關係屬於姻親？(甲)鄭秀雯的父親和許治安的父親 (乙)許治安和岳父 (丙)鄭秀雯和許治安的嫂嫂 (丁)許治安和嫂嫂。(A)甲乙丙 (B)甲乙丁 (C)乙丙丁 (D)甲丙丁。

【歷史科】

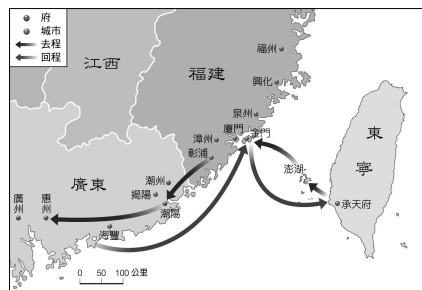
- 17.「臺灣史蹟源流」展示會場，展示「臺灣第一份國際性合約」，記載著西元 1662 年的一個條約，條約中的第一條寫著「雙方忘記一切仇恨」，條約中並討論城堡、土地、大砲、糧食與貨物等的主權歸屬，甚至給予其中一方離去人員船隻及足夠的糧食。請問：由時間及內文判斷，訂立此條約的雙方應是下列何者？(A)荷蘭、鄭成功 (B)英國、鄭經 (C)施琅、鄭克塽 (D)清、南明。
- 18.連橫的《臺灣通史》中寫著一首詩：「杖策談時局，軍門禮數寬。兵農輔文教，遺教在臺灣。」請問：這首詩是稱讚哪一位人物不朽的功業？(A)鄭成功 (B)鄭克塽 (C)陳永華 (D)施琅。
- 19.胡正是明鄭時期住在臺灣北部的青年，他聽說政府設立學校提供人民入學，如果認真學習通過考試，可以在政府機關任職，他便決定前往孔廟明倫堂就學。請問：他前往就學所經過的行政區為何？(A)由天興縣到承天府 (B)由天興州到承天府 (C)由萬年州到承天府 (D)由天興州到萬年州。
- 20.有關明鄭時期經濟發展的敘述，下列何者正確？(A)與日本、荷蘭及南洋進行貿易 (B)進口軍火與布料，輸出稻米與蔗糖 (C)突破封鎖，推動與中國大陸之間的走私貿易 (D)從左營、前鎮、新營、左鎮等地名可知鄭氏利用官墾方式解決糧食問題。
- 21.施琅曾說：「伏思賊黨盤據臺灣，沃野千里，糧食匪缺，上通日本下達呂宋、廣南等處，火藥軍器之需，布帛服用之物，貿易備具。」依上述的觀點，施琅認為鄭成功能整軍經武，與滿清抗衡，主要是得利於哪一項要素？(A)軍屯成功 (B)文教事業有成 (C)將漢人典章制度移植臺灣 (D)國際貿易獲利豐厚。
- 22.阿誠是明鄭時期的人。請問：他「不可能」經歷下列哪一種情形？(A)在鹿耳門港口，看到許多人手持渡臺證照，準備入關 (B)在臺灣首座孔廟的明倫堂裡上課 (C)受教於沈光文，向其學習漢文及儒家思想 (D)到布莊買從英國進口的布料。
- 23.「少年哪嚙(沒有)一次慳(傻)，路邊哪有有應公」，這種專拜孤魂野鬼的廟宇，特別多是收容客死異鄉的羅漢腳。請問：這個諺語的形成和清廷的哪一項政策有關？(A)海禁政策 (B)渡臺禁令 (C)遷界令 (D)劃界封山。
- 24.俗諺：「一個某(老婆)，卡贏三身天公祖」、「有唐山公，無唐山媽」、「红柿若出頭，羅漢腳目屎(眼淚)流。」請問：這些俗諺反映清領前期臺灣漢人社會的什麼現象？(A)原住民與漢人衝突不斷 (B)民變頻繁 (C)男女人口比例失衡 (D)收養義子、養女的風氣興盛。

25. (甲)設噶瑪蘭廳 (乙)設淡水廳 (丙)設臺灣、鳳山、諸羅三縣。以上清廷對臺的行政區劃先後演變的順序, 應為?
 (A)甲乙丙 (B)丙甲乙 (C)丙乙甲 (D)乙丙甲。
26. 康熙 48 年, 泉州人陳逢春、賴永和、陳天章等人, 合股成立了「陳賴章」墾號, 向政府申請開墾大佳臘地區獲准, 並曾以豬、酒等物, 向當地原住民換取一大片土地, 淡水河流域才開始有漢人居住。請問: 當時「陳賴章」墾號應向哪一個官府申請墾照? (A)臺灣縣 (B)諸羅縣 (C)彰化縣 (D)淡水廳。
27. 瓦歷是清領初期的原住民, 他聽說有個漢人吳沙帶了很多人來到他們部落附近開墾, 不久清廷在這裡設官治理。根據史料研判, 下列敘述何者正確? (A)瓦歷是康熙年間的人 (B)瓦歷屬於凱達格蘭族 (C)清廷在瓦歷的家鄉設置淡水廳 (D)瓦歷當時住在今天的宜蘭。
28. 臺灣清領前期不斷興築水圳, 下列各水圳與其所在地的配對, 哪一組正確? (A)貓霧揀圳—彰化 (B)曹公圳—臺北 (C)瑠公圳—高雄 (D)八堡圳—彰化。
29. 從下列資料表分析, 哪一項反映清領前期臺灣進出口貿易實況?

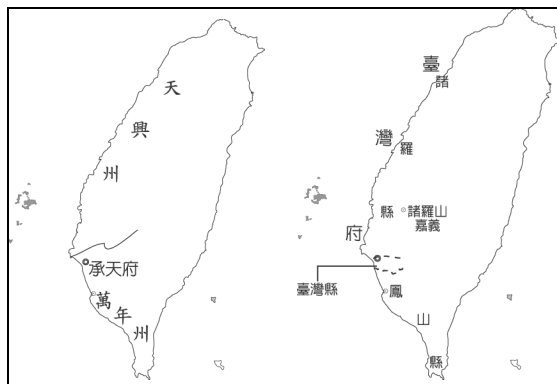
項目	進口品	出口品
(A)	紡織品、藥材、日用品	蔗糖、稻米
(B)	紡織品、軍火	蔗糖、鹿皮
(C)	紡織品、鴉片	蔗糖、樟腦、茶葉
(D)	紡織品、瓷器、藥材	蔗糖、稻米、茶葉

30. 大慶是清領前期前往「泉州」販賣蔗糖的臺南商人。請問: 他比較「不可能」有下列哪種經歷? (A)運輸需利用鹿耳門為港口 (B)加入糖郊 (C)是北郊成員 (D)在臺居住地區是當時臺灣最繁榮的商業港市。

◎看地圖回答試題



(圖一)



(圖二)

(圖三)

31. (圖一)是某一場戰爭的行進路線圖。請問: 這場戰爭是指哪一件事? (A)鄭成功攻臺 (B)鄭經趁清朝內亂出兵中國大陸 (C)施琅攻臺 (D)清朝派軍渡海鎮壓民變。
32. 根據(圖二)。請問: 下列有關此時期的措施, 何者敘述「錯誤」? (A)獎勵屯墾 (B)在承天府首建孔廟 (C)准許英國人來臺經商 (D)將臺灣改稱為東都。
33. 根據(圖三)。請問: 下列有關此時期的敘述, 何者「錯誤」? (A)是臺灣首度納入中國版圖 (B)曾爆發朱一貴民變 (C)重視軍屯, 今天前鎮、新營之地名由來, 即當時軍屯所在地 (D)臺灣行政區由圖二演變成圖三的關鍵是施琅攻臺。

【地理科】

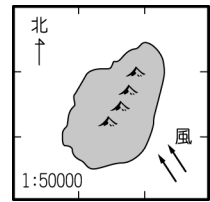
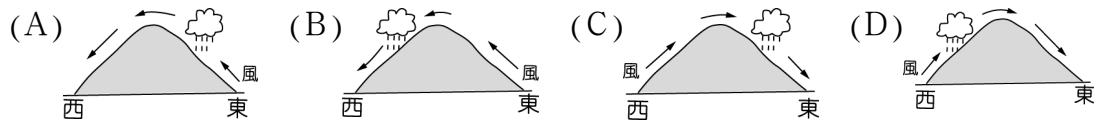
34. 高雄港是利用「瀉湖」地形改建成的人工港, 因此可以推測未來它可能面臨到的問題是? (A)珊瑚礁白化 (B)泥沙淤積嚴重 (C)全年有雨使貨物裝卸不便 (D)波濤洶湧經常使船隻受損。
35. 孟群熱愛浮潛, 週休二日時常呼朋引伴前往海邊潛水, 若他想欣賞美麗的珊瑚礁與熱帶魚景觀, 請問他應該前往下列何地點遊玩呢? (A)臺北淡水 (B)臺南七股 (C)屏東墾丁 (D)花蓮七星潭。
36. 「蜆」是臺灣常見的養殖貝類, 在各大企業紛紛推出「蜆精」的同時, 蜆類的養殖數量也逐漸增加。若身體勇公司想在臺灣尋找一處河口地點進行蜆類的養殖, 下列何地最適宜? (A)臺北市 (B)南投縣 (C)雲林縣 (D)臺東縣。
37. 附圖為某地的海面示意圖, 很久以前因為海平面上升的關係, 使得原本陸地突起的小山丘變成露出海面的小島。這些小島在島嶼分類上是屬於下列何者? (A)火山島 (B)大陸島 (C)珊瑚礁島 (D)沙洲島。



38. 下列各離島中, 何者與澎湖屬於同樣成因的島嶼? (A)金門 (B)蘭嶼 (C)東沙島 (D)小琉球。

39.下列四人在地理課上的發言，誰的說法是形容某地的「天氣」狀況？ (A)哲誠：「臺灣在五、六月梅雨季時，總是帶來連綿不斷的降雨」 (B)信雅：「臺北市今天氣溫偏高，降雨機率不大」 (C)翔威：「臺灣的颱風季節大多在七、八月」 (D)仁平：「澎湖的年雨量是全臺最低的」。

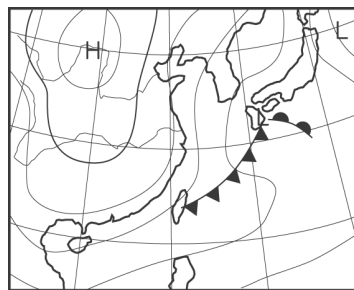
40.附圖是某一假想島嶼圖。下列何者最能顯示出其山地的降雨特色？



41.地球上某日的海陸氣壓分布如附圖所示。請問：當時的氣候特色最主要為下列何者？ (A)吹乾燥的東北風 (B)吹溼潤的東北風 (C)吹乾燥的西南風 (D)吹溼潤的西南風。



42.長安國中的學生要去戶外郊遊，當時的天氣如附圖所示。請問：他們最可能需要準備下列哪一樣東西？ (A)厚外套 (B)雨衣 (C)泳衣 (D)防油油。




43.對於臺灣氣候的描述，下列何者正確？ (A)夏季普遍高溫，山地高於平地 (B)冬季北部降雨的主要因素為東北季風 (C)降雨的季節分布不均，集中於冬季 (D)夏季常受蒙古冷氣團影響，全臺普遍高溫。

44.住在臺中的達琳某日的日記內容如下：「屋外的綿綿細雨已經下了兩個星期，討厭的鋒面不知道還要滯留多久？明天雖然放假，看樣子又無法跟同學一起出去逛街了。」請問：這最可能是下列哪一天的日記？ (A)11月10日 (B)1月23日 (C)5月19日 (D)9月20日。

45.臺灣有個聚落其屋頂建築十分具有特色，因聚落所在地冬季迎東北季風，造成雨量多，而採取斜屋頂並鋪蓋防水的油毛氈(黑紙)，造成黑漆漆一片的特殊屋頂建築景觀，請問此聚落可能位在？ (A)南投埔里 (B)屏東墾丁 (C)臺南七股 (D)瑞芳九份。

46.附表是臺北市夏季的天氣特徵，下列哪個圖形最能說明表中14：30那場傾盆大雨的成因？



時間	天氣狀況
5：30	天色微白
10：30	豔陽高照
14：30	傾盆大雨
15：30	雨過天晴

◎題組：附圖為臺灣海岸分布圖。請回答47~50題，請問：

47.「高山與深海相鄰，有氣勢雄偉的斷崖海岸……。」以上所形容的是圖中哪一段海岸？ (A)甲 (B)乙 (C)丙 (D)丁。

48.「多岬角與海灣，是臺灣各地海岸中最曲折的一段。」以上所形容的是圖中哪一段海岸？ (A)甲 (B)乙 (C)丙 (D)丁。

49.「有面積廣大的海埔新生地，常見的土地利用有鹽田以及魚塭，近年來更開拓為工業用地。」以上所形容的是圖中哪一段海岸？ (A)甲 (B)乙 (C)丙 (D)丁。

50.「沿岸珊瑚礁廣布，海底熱帶魚類及各式珊瑚群生，深具觀光、遊憩、生態保育及環境教育價值的海岸。」以上所形容的是圖中哪一段海岸？ (A)甲 (B)乙 (C)丙 (D)丁。

