

## 高雄市立正興國中 99 學年度第二學期第一次段考一年級社會科試題

科目代碼：05

### ※歷史科※

- ( ) 1. 導演魏德聖籌資六億新台幣拍攝了一部新片《賽德克·巴萊》，片中描述日治時期原住民抗日的悲壯，請問這部電影應該是以哪個歷史事件作為背景？ (A)苗栗事件 (B)西來庵事件 (C)霧社事件 (D)臺灣民主國抗日事件。
- ( ) 2. 承上題，此一事件的發生正值日本治臺政策中的哪個時期？ (A)漸進主義 (B)皇民化運動 (C)內地延長主義 (D)武裝抗日時期。
- ( ) 3. 小強是生活在皇民化運動下的臺灣漢人，請問下列哪種情況是他不會經歷到的？ (A)日本派軍事將領擔任臺灣總督 (B)總督府實施「工業日本，農業臺灣」的經濟政策 (C)搭基隆到高雄的縱貫鐵路去探親 (D)看到八田與一設計的嘉南大圳完工。
- ( ) 4. 台灣經歷多種政權的統治，在不同的政權下有不同的發展，以下是日治時期所發生的重要事件 (甲)發佈「六三法」(乙)第一次戶口普查 (丙)日月潭發電所的完工 (丁)第一任文官總督的到來，請排列出正確順序。 (A)甲乙丙丁 (B)甲乙丁丙 (C)乙甲丁丙 (D)丁甲乙丙。
- ( ) 5. 日本統治初期，抗日事件不斷，較著名事件有 (甲)苗栗事件 (乙)西來庵事件 (丙)霧社事件 (丁)劉永福率領臺灣民主國抗日，請依照發生地點由北排到南。 (A)甲乙丙丁 (B)甲丙乙丁 (C)乙丁甲丙 (D)丁丙甲乙。
- ( ) 6. 日治時期總督府在臺灣推動專賣制度，以賺取豐厚利潤，請問下列何者為當時專賣物品？ (A)稻米、蔗糖 (B)鴉片、蔗糖 (C)茶葉、蔗糖 (D)鴉片、樟腦。
- ( ) 7. 1930 年代起，日本為配合哪一項政策的需要而開始推動工業化？ (A)漸進主義 (B)南進政策 (C)皇民化運動 (D)內地延長主義。
- ( ) 8. 下表是小英未完成的臺灣行政制度表，請你幫助她在「？」中選出正確解答。 (A)五府三州 (B)五縣三廳 (C)五州三縣 (D)五州三廳。

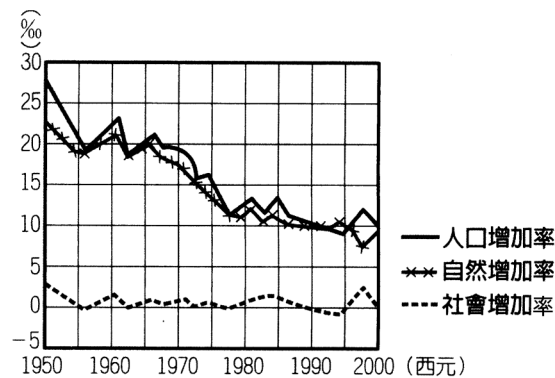
時期	鄭經時期	清領前期	日治時期
主要內容	一府二州	一府三縣→一府四縣三廳	？

- ( ) 9. 日本政府為了加強對臺控制，鎮壓臺人反抗，建立一套何種制度，地方行政皆以其為中心，幾乎任何事務都有其介入？ (A)保甲制度 (B)警察制度 (C)六三法 (D)議會制度。
- ( ) 10. 有句俗諺說：『第一憨，種甘蔗乎會社磅』，請問出現這句俗諺的背景為何？ (A)日資糖廠收購甘蔗在價格上壓榨蔗農 (B)蔗糖產量不斷增加而成為糖業王國 (C)嘉南大圳完工前災害不斷 (D)新式糖廠建立使蔗農無力競爭。
- ( ) 11. 「他」曾經留學德國，是臺灣日治時期的民政長官，在其任內展開各項基礎建設，奠定日本帝國主義在臺灣的基礎，請問「他」是指下列何人？ (A)羅福星 (B)後藤新平 (C)樺山資紀 (D)八田與一。
- ( ) 12. 日本治臺時間常達 50 年，共經歷 19 任總督，依其治臺政策的需要而分為不同時期，請問會進入「內地延長主義時期」是受到下列哪一事件的影響？ (A)民族自決思潮 (B)中日戰爭的爆發 (C)馬關條約的簽訂 (D)第一次世界大戰爆發。
- ( ) 13. 「他」在就任臺灣總統的文告中發表下列言論「惟是臺灣疆土，荷大清締造二百餘年，今雖自立為國，感念列聖舊恩，仍應恭奉正朔……氣脈相通，無異中土」，請問「他」是指下列何人？ (A)鄭成功 (B)丘逢甲 (C)唐景崧 (D)余清芳。
- ( ) 14. 這家銀行是在日治時期就成立，不但是臺灣第一個現代化的金融機構，它所發行的鈔票也是臺灣使用紙幣的開始，請問此家銀行為何？ (A)中央銀行 (B)臺北銀行 (C)臺灣銀行 (D)匯豐銀行。
- ( ) 15. 日治時期臺灣漢人的武裝抗日行動，在哪個事件後大致停止，轉而採取非武裝的政治社會運動？ (A)噍吧哖事件 (B)苗栗事件 (C)霧社事件 (D)中日戰爭爆發。

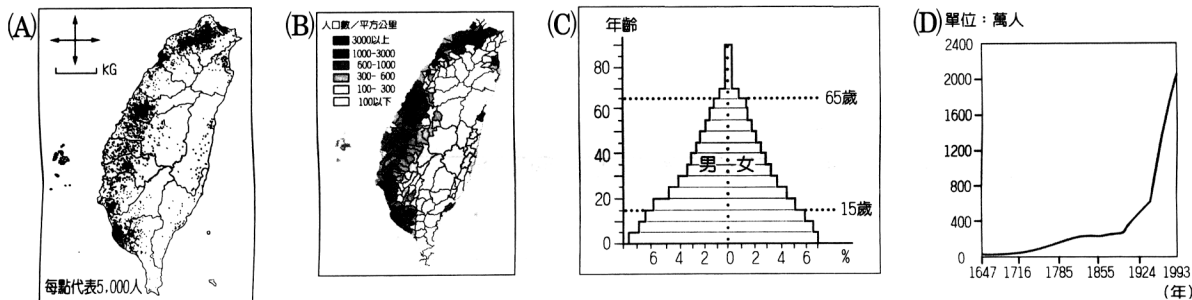
※地理科※

一、選擇題：32%（每題 2 分）

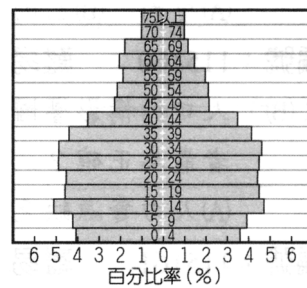
- ( ) 16. 根據右圖(一)的資料判斷，下列敘述何者正確？ (A) 人口成長呈現急劇上升，沒有趨於平緩的現象 (B) 人口增加主要源於自然增加 (C) 人口總數逐年減少 (D) 出生率大於移入率。
- ( ) 17. 下列那一幅圖適合說明台灣歷年來的人口成長情形？ (A) A (B) B (C) C (D) D。




圖(一)



- ( ) 18. 「台灣某年的人口密度約 623 人/平方公里，而美國約 30 人/平方公里」，以上敘述所代表的含義是 (A) 台灣單位面積上居民的擁擠程度較美國來得高 (B) 美國的土地面積大於台灣的土地面積 (C) 台灣的人口總數大於美國人口總數 (D) 美國的經濟發展較快。
- ( ) 19. 右圖(二)是台灣某年的人口金字塔圖，下列相關的敘述，何者正確？ (A) 由金字塔圖可以看出該年台灣的人口總數 (B) 該年台灣的教育程度頗高 (C) 該年人力資源非常豐富 (D) 該年幼年人口女多於男。
- ( ) 20. 根據右圖(三)判斷，甲乙丙丁四國，壯年人口扶養負擔最輕的是何國？ (A) 甲國 (B) 乙國 (C) 丙國 (D) 丁國。
- ( ) 21. 台灣外籍勞工以下列那一個國家比例最高？ (A) 中國 (B) 南韓 (C) 印尼 (D) 日本。
- ( ) 22. 下表是台閩地區戶口及住宅普查的部份摘要結果，根據內容判斷，為因應此種社會變遷的趨勢，政府最應重視下列那一方面的政策規畫 (A) 延長基礎教育 (B) 老人安養 (C) 鼓勵移民 (D) 文化融合。



圖(二)

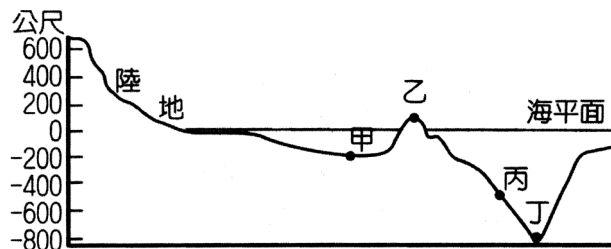


圖(三)

項目	69年	79年	89年
總人口數 (萬人)	1,803	2,039	2,217
平均每戶人口數 (人/戶)	4.8	4.0	3.3
65歲以上老年人口比率 (%)	4.1	6.1	8.5
大專以上教育程度人口比率 (%)	9.9	15.8	24.8

- ( ) 23. 政府近年來在鄉村地區廣設醫院及學校，主要是希望解決何項人口的問題？ (A) 人口高齡化 (B) 人口分布不均 (C) 少子化的現象 (D) 大量人口的外移。
- ( ) 24. 下列何者是台灣農業的特徵？ (A) 邁向總產量大，粗放農業的型態 (B) 農產品依然以自給自足為主，沒有走向商品化 (C) 近年來因北部經濟發展迅速，故成為許多蔬果，花卉等專業生產區的重鎮 (D) 因耕地狹小，需投入大量的勞力，以提高單位面積的產量。

- ( ) 25. 有關台灣農作物種類的敘述，下列何者錯誤？ (A)因飲食習慣的改變，部分稻田轉作蔬果和花卉 (B)茶至今仍是丘陵地區重要的糧食作物 (C)甘蔗種植面積大幅縮減，是因為生產成本提高 (D)早期農作物以稻米、甘蔗、茶為主。
- ( ) 26. 右圖(四)是海底地形剖面示意圖，圖中那一點位於有豐富魚類聚集的大陸棚區？ (A)甲 (B)乙 (C)丙 (D)丁。
- ( ) 27. 有關台灣漁業面臨的問題，下列敘述何者正確？ (A)因有寒、暖流交會，故沿岸與近海漁業非常發達，沒有過度捕撈的危機 (B)遠洋漁業因漁船經常誤入他國領海的範圍，而造成漁事糾紛 (C)水源污染影響到養殖漁業的發展 (D)超抽地下水導致地層下陷、海水倒灌等問題，主要發生在台灣東南部的沿海。
- ( ) 28. 近年來台灣森林經營的方向，著重於下列那一項？ (A)大量砍伐，以賺取巨額的外匯收入 (B)完全轉型以休閒遊憩為主，像森林遊樂區 (C)重保育與永續利用的原則 (D)完全不做任何的開發，以保留原始林相。
- ( ) 29. 有關台灣畜牧業的敘述，下列何者正確？ (A)畜牧型態以欄牧為主，是因為便於管理 (B)政府積極發展酪農業，以供應居民鮮乳或乳製品的需求 (C)目前畜牧業的發展依然附屬於農業，未走向專業化 (D)畜牧業主要分布於人煙稀少的東部，以平衡台灣東西經濟的發展。
- ( ) 30. 下列何者不是台灣農業轉型的原因？ (A)農村人口老化 (B)加入 WTO (C)為了降低失業率 (D)農業生產成本高、利潤低。
- ( ) 31. 「彰化縣的花卉博覽會」、「台南市的糖果文化節」、「屏東縣的黑鮪魚文化觀光季」等地方產業的興起，顯示台灣的農業結構逐漸朝向何種形式的發展？ (A)農業經營集約度高 (B)犧牲工業成就農業 (C)觀光業取代農業 (D)觀光休閒產業興起。



圖(四)

## 二、整合題：8%（每題 2 分）

(一)右圖(五)是台灣人口分布圖，每一點為五千人，請回答下列問題：

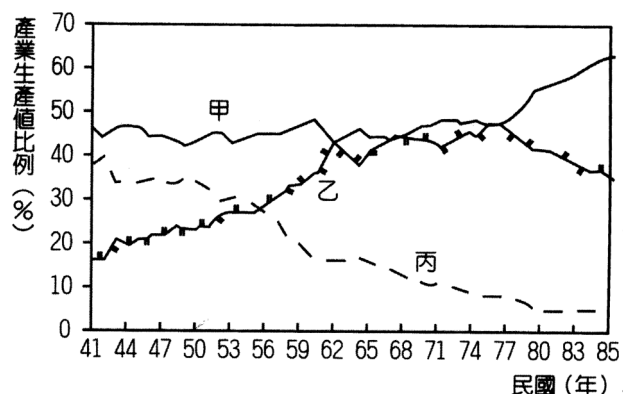
- ( ) 32. 由圖可判斷影響台灣人口分布的因素不包括下列何者？ (A)氣候 (B)開發歷史 (C)經濟發展 (D)地形。
- ( ) 33. 台灣西半部人口有高度集中於三大都會區的現象，下列何者是促使台灣人口湧入三大都會區的「拉力」？ (A)環境品質佳 (B)氣候溫暖濕潤 (C)政治安定 (D)就業機會高。



圖(五)

(二)右圖(六)是台灣各級產業生產值比例的變化，請回答以下的問題：

- ( ) 34. 台灣目前以二、三級產業為主，其指的是圖中那些曲線？ (A)甲乙 (B)乙丙 (C)甲丙。
- ( ) 35. 每天在學校傳授知識給我們的老師，他們是屬於那一級產業活動？ (A)第三級 (B)第二級 (C)第一級 (D)第四級 產業。



圖(六)

※公民科※

壹、選擇題：(每題 2 分，30%)

- ( ) 36. 日本發生強烈地震引起海嘯，造成嚴重災情，各國政府、人民紛紛慷慨解囊給予援助。這是哪一種互動模式？ (A)衝突 (B)合作 (C)交換 (D)競爭。
- ( ) 37. 新聞媒體報導，來自世界各國的學生投入紐西蘭基督城的災區擔任義工，協助災民清理家園，這些學生發揮了何種公民素養？ (A)秉持尊重的態度 (B)遵守公共秩序 (C)維護公眾利益 (D)秉持理性的溝通方式。
- ( ) 38. 某電視卡通因充滿抽煙的畫面，被民間團體點名認為兒童不宜欣賞，並要求政府能管制，以維護兒童身心之健全。上述說明何種管道對兒童造成影響？ (A)家庭 (B)學校 (C)同儕團體 (D)傳播媒體。
- ( ) 39. 政府正大力宣導，汽機車駕駛人右轉時禮讓行人先行的觀念，以保障路人的安全。政府的目的是有助下列何種素養的養成？ (A)秉持尊重理性 (B)遵守公共秩序 (C)維護公眾利益 (D)追求社會正義。
- ( ) 40. 民眾若占用殘障停車位，將遭強制拖吊，以維護弱勢者使用殘障車位的權益。這項規定是在實現何種素養？ (A)秉持尊重理性 (B)遵守公共秩序 (C)維護公眾利益 (D)追求社會正義。
- ( ) 41. 君君的媽媽是職業婦女，這個週末被主管要求加班，可是君君的學校這個週末也要舉辦親子運動會。請問君君的媽媽面臨何種問題？ (A)角色扮演 (B)角色衝突 (C)性別角色 (D)角色混淆。
- ( ) 42. 阿寶在課堂上整理公民筆記，寫成如下的內容。公民老師看過後說很可惜，有三處錯誤，建議她要把兩者的不同再仔細研究。請問：阿寶只有哪一處的內容正確？

	職 業 工 會	同 業 公 會
(甲)參加者	受僱的員工	某行業的經營者
(乙)成立目的	協調同業關係，增進共同利益	謀求全體員工的權益
(丙)主要功能	以聯絡員工感情為主	以完成同業合併為主
(丁)性 質	代表資方	代表勞方

- (A)甲 (B)乙 (C)丙 (D)丁。
- ( ) 43. 小明想組織新政黨，他應該向下列哪一個機關登記？ (A)戶政事務所 (B)立法院 (C)司法院 (D)內政部。
- ( ) 44. 世界展望會舉辦「資助兒童計畫」，藉由善心人士每月的捐款，讓貧苦的學童得以上學、醫療服務等。由此可見，世界展望會是屬於何種功能取向的團體？ (A)關係取向 (B)工作取向 (C)休閒取向 (D)興趣取向。
- ( ) 45. 近來新聞報導數則勞工因工作壓力過大，工時太長而導致「過勞死」；也有勞工加班卻領不到合理的加班費。請問下列哪個團體可以協助勞工爭取自身權益？ (A)商會 (B)工會 (C)宗親會 (D)農會。
- ( ) 46. 《人民團體法》中將社會上的團體分成三類，下列有關團體類型的配對，哪一項配對是錯誤的？

選項	類 型	團 體	選項	類 型	團 體
甲	職業團體	臺灣律師公會	丙	政治團體	民主進步黨
乙	社會團體	中華民國一日志工協會	丁	社會團體	翻譯業職業工會

- (A)甲 (B)乙 (C)丙 (D)丁。
- ( ) 47. 依《人民團體法》的規定，宗親會是屬於何種類型的團體？ (A)血緣團體 (B)政治團體 (C)職業團體 (D)社會團體。
- ( ) 48. 中華民國人民可以自由參加各種不同的團體組織，是受到下列何者的保障之故？ (A)《憲法》 (B)《刑法》 (C)《政黨法》 (D)《人民團體法》。
- ( ) 49. 我國自從民國 76 年之後，人民團體迅速蓬勃發展。請問：下列敘述何者是正確的？ (A)使團體蓬勃發展是因為終止動員戡亂時期 (B)必須滿年 20 歲，才具有參加人民團體活動的資格 (C)民國 76 年後，數目增加最快、最多的是社會團體 (D)一個人可參加不同性質的團體，但每種只限一個。
- ( ) 50. 阿偉是一個相當活躍的人，他參加了許多團體，包括：「醫師公會」、「慈濟環保志工隊」、「民主進步黨」、「網球協會」、「台大校友會」、「憲改聯盟」。請問：阿偉所參加的各種團體中，屬於社會團體的有幾個？ (A)1 個 (B)2 個 (C)3 個 (D)4 個。

高雄市立正興國中 99 學年度第二學期第一次段考一年級社會科試題解答單

※歷史科

題號	答案	題號	答案
1-5	CCBBB	6-10	DBDBA
11-15	BACCA		

※地理科

題號	答案	題號	答案
1-5	BDACD	6-10	CBBDB
11-15	ACCBC	16-20	DADAA

※公民科

題號	答案	題號	答案
1-5	BCDBD	6-10	BADBB
11-15	DDACC		