

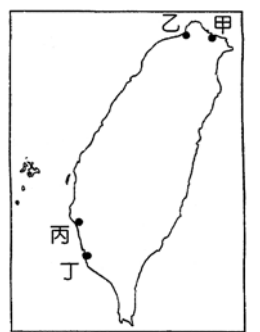
高雄市立正興國中 99 學年度第一學期第三次段考一年級社會科試題

科目代碼：05

(歷史)

一. 單選題:10%(每題 1 分)

- () 1. 清領時期的台灣常見械鬥的衝突，可能的原因並不包括下列何者？
(A) 爭奪土地或水源 (B) 祖籍不同 (C) 語言的隔閡 (D) 不滿官員貪污腐化。
- () 2. 「嘉義」舊名稱爲「諸羅」，其地名由來與清廷平定林爽文事件有關，此一民變發生於哪一皇帝在位時？ (A) 康熙 (B) 乾隆 (C) 嘉慶 (D) 同治。
- () 3. 高山青是清領前期台灣的原住民，若想讀書識字，應該到哪一機構就讀？
(A) 義學 (B) 番學堂 (C) 番人公學校 (D) 社學
- () 4. 同治 13 年，日本利用牡丹社事件出兵台灣，其真正目的是想併吞下列何地？
(A) 琉球 (B) 台灣 (C) 澎湖 (D) 釣魚台。
- () 5. 郭巴到美濃參觀客家文物展，品嚐美食，順便也到當地居民信仰的廟宇去拜訪。回顧客家人移民來台的歷史，他們最有可能來自哪一地區？ (A) 泉州 (B) 福州 (C) 潮州 (D) 漳州。
- () 6. 承上題，當地廟宇供奉的神明應該是 (A) 保生大帝 (B) 有應公 (C) 三山國王 (D) 開漳聖王。
- () 7. 美環想要打電報給心儀已久的花輪，這種情形最早出現在台灣應該是在何時？
(A) 開港通商以後 (B) 台灣建省後 (C) 沈葆楨來台建設 (D) 丁日昌治台時期。
- () 8. 章魚哥參加「全台古蹟巡禮」的旅遊活動，預計前往(甲)億載金城(乙)海門天險(丙)金廣福公館(丁)紅毛城等地，若要由南往北依序參觀來安排行程，下列哪一路線才是正確的？
(A) 甲→丙→丁→乙 (B) 甲→丁→丙→乙 (C) 甲→丙→乙→丁 (D) 丙→甲→丁→乙。
- () 9. 中國人重視祭拜祖先的觀念，早期由大陸移民台灣的漢人，以來台的第一代祖先做爲祭祀的對象，稱之爲 (A) 唐山公 (B) 開台祖 (C) 唐山祖 (D) 有應公。
- () 10. 下列哪一項敘述並不符合「清領後期」的發展？
(A) 外商設立「洋行」進行貿易 (B) 第一間西醫醫館建立
(C) 經濟重心逐漸北移且呈現入超的現象 (D) 廢除番界以利開山撫番。



圖(一)

二. 題組:20%(每題 2 分)

(一) 19 世紀中葉，台灣被迫開港通商，清廷治台政策因而有所改變，請依右圖(一)回答下列問題：

- () 11. 台灣被迫開港通商，導因於清朝哪一對外戰爭的失敗？
(A) 甲午戰爭 (B) 英法聯軍 (C) 中法戰爭 (D) 鴉片戰爭。
- () 12. 開港後外商在港口設立「洋行」以從事貿易，其中英商所設的「德記洋行」(現已改爲台灣開拓史料蠟像館)位於圖中何地？ (A) 甲 (B) 乙 (C) 丙 (D) 丁。
- () 13. 台灣出口商品中，產量曾達到世界第一的特產是由圖中何地出口的？(A) 甲 (B) 乙 (C) 丙 (D) 丁。
- () 14. 自荷治時期開始，哪一項物產一直都是重要出口商品？(A) 蔗糖 (B) 茶葉 (C) 樟腦 (D) 香料。
- () 15. 許多傳教士來台以通商口岸做爲傳教據點，例如著名的馬偕牧師即在圖中何地進行傳教事業？
(A) 丁 (B) 丙 (C) 甲 (D) 乙。

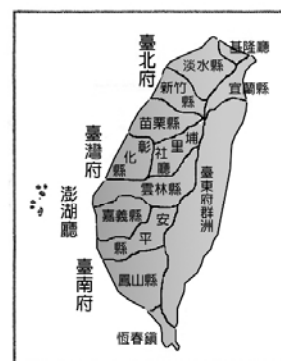
(二)下圖(甲)(乙)(丙)是清領時期台灣行政區的演變圖，分別代表不同階段的發展。請依圖回答：



圖(甲)



圖(乙)

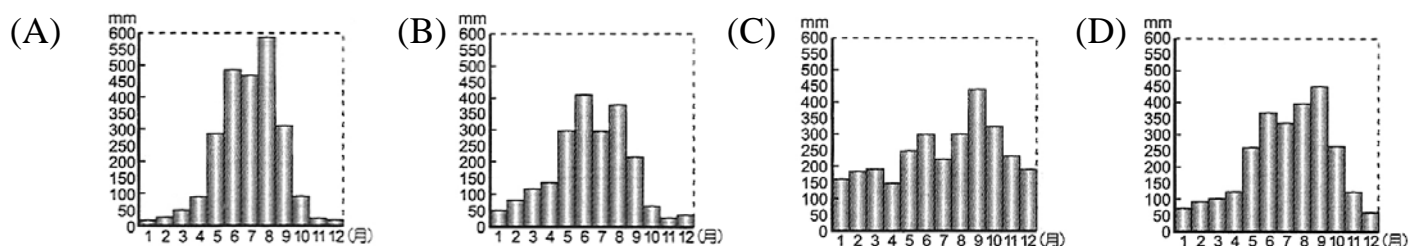


圖(丙)

- () 16.由圖(甲)轉變至圖(乙)，與哪一外力侵略有關？ (A)法國 (B)英國 (C)日本 (D)俄國。
- () 17.承上題，此時奉命來台抵禦外侮的官員有許多重要作為，包括(1)修建砲台(2)興築鐵路(3)廢除渡台禁令(4)修築通往後山的道路(5)促成台灣建省等，有幾項是正確的？
(A)兩項 (B)三項 (C)四項 (D)五項。
- () 18.由圖(乙)變成圖(丙)，是因為哪一場戰爭所造成的？ (A)中法戰爭 (B)英法聯軍 (C)甲午戰爭 (D)鴉片戰爭。
- () 19.曾聰明是生活在圖(丙)時期的台北人，下列何種狀況他可能不會遇到？
(A)坐火車到基隆 (B)到郵局寄信 (C)到西學堂接受教育 (D)打電話給親友。
- () 20.承上題，此時期台灣的行政長官是何人？ (A)劉銘傳 (B)沈葆楨 (C)丁日昌 (D)劉永福。

(地理)

- () 21.在一般人的印象裡，臺灣每年的降雨量十分充沛。事實上，由於部分自然環境和人文環境交互影響下，因此每人每年實際可分配到的降雨量甚少，只及世界平均值的六分之一。請問：下列何者不是造成臺灣每人分配到水資源不足的因素？ (A)坡陡流急 (B)地狹人稠 (C)水庫量少 (D)河川短小。
- () 22.地下水是提供公共用水的重要來源，特別在乾燥及長期久旱時，扮演一個重要角色，維持用水供應。若在臺灣四大區域各挖一口井抽取地下水，哪個區域的井水水位在冬、夏兩季之間落差會最大？
(A)北部 (B)東部 (C)中部 (D)南部。
- () 23.台灣河川泥沙含量高與下列哪一個因素無關？ (A)地質碎弱 (B)地形坡度陡 (C)河川沖刷力強 (D)乾溼季分明。
- () 24.台灣因降水的時間、空間分布不均，使得河川的流量變化極大而影響航運價值，下列四個地區的年降水量圖中，哪一地區境內的河川較有可能有航運價值？



- () 25.右圖為台灣重要水庫分布圖。由圖中顯示，西南部地區水庫興建最多，其原因除了農工業發達用水量大外，尚與季風氣候的哪一項特徵有關？
(A)年均溫高低 (B)日溫差大小 (C)年降水量多寡 (D)降水季節分布。



※請接下一張※

- () 26. 每年許多外國遊客都想要到南臺灣欣賞國際保育類—黑面琵鷺，外國遊客能在冬天欣賞到黑面琵鷺，主要和臺灣的哪一個地理因素關係最大？
 (A) 東亞島弧中樞地位 (B) 中央山脈面積廣大 (C) 地表型態多樣複雜 (D) 北回歸線通過南部。
- () 27. 右圖為臺灣河川分布簡圖，以下現象何者無法由此圖得知？
 (A) 河川水系屬東西分流 (B) 臺灣河川數量多且分布密集 (C) 西部河川長度較長 (D) 北部河川的水量豐穩。
- () 28. 小龍利用暑假做臺灣天然植物分布調查，一路從嘉義出發前往玉山。下表為他沿路所見的植物作成的表格，其中哪一項錯誤？ (A) 甲 (B) 乙 (C) 丙 (D) 丁。



高度	植物分布
甲、3500 公尺以上	氣溫較低，多凍土景觀
乙、2500 公尺~3500 公尺	主要以冷杉、鐵杉等針葉林為主
丙、700 公尺~2500 公尺	主要由針、闊葉林構成的混合林
丁、700 公尺以下	以闊葉林為主，如榕樹

二、題組

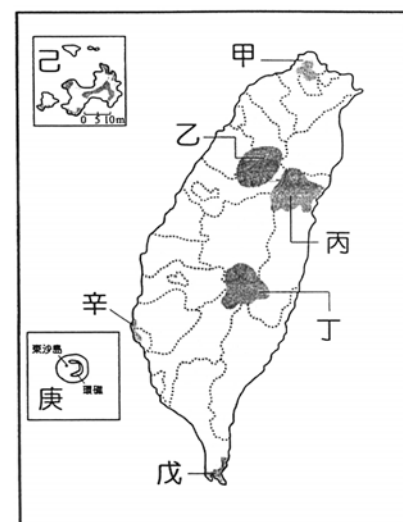
(一) 以下為 2009 年 3 月的地方消息，閱讀後回答下列答題：

雲林縣下湖口溼地的一條產業道路，在二十年前颱風過後，浮出水面的次數日益減少，終於在今年 3 月完全封閉，鄉公所憂心如果國土復育計畫未能貫徹，可能有更多的濱海土地面臨消失。根據調查，自民國 60 年代起，臺灣沿海地區的養殖漁業興起，「漁人富了，農民窮了」，沿海的農田在大雨過後，積水不退形成溼地；之後偶有漲潮淹沒墊高的道路，近年已完全看不到路面浮出，為了防範釣客在夜間駛入溼地，決定全面封閉道路。

- () 29. 造成雲林縣濱海地區土地消失、道路封閉的原因，為下列哪一項？ (A) 地層下陷 (B) 水土保持欠佳 (C) 土石流發生 (D) 河川上游興建水庫。
- () 30. 受到世界性環境問題的影響，臺灣將有更多的土地遭淹沒，此世界性的環境問題為 (A) 沙塵暴 (B) 全球暖化 (C) 臭氧層破洞 (D) 珊瑚白化。

(二) 右圖為臺灣國家公園分布圖。請問：

- () 31. 「雪山、大霸尖山在區內，有佳陽沖積扇、大甲溪、峽谷等多種地形，又有『櫻花鉤吻鮭』。」請問：這段文字是在描述哪一個國家公園？
 (A) 甲 (B) 乙 (C) 丙 (D) 己。
- () 32. 「這裡是最早設立的國家公園，有熱帶林、貝殼沙岸、砂丘、風成地形及珊瑚礁。」請問：這是描述哪一個國家公園？ (A) 甲 (B) 丙 (C) 丁 (D) 戊。
- () 33. 「區內為完整的火山地形及地質景觀，有小油坑、紗帽山、七星山等遊憩資源。」這段文字是在描述哪一個國家公園？ (A) 甲 (B) 乙 (C) 丙 (D) 庚。



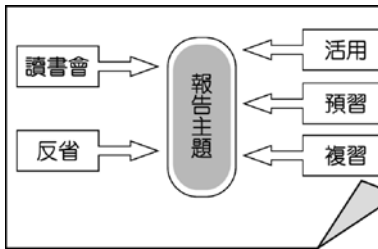
(三) 右圖為水系流域簡圖。請問：

- () 34. 右圖為水系流域簡圖，請問圖中河川的流向為 (A) 東 (B) 西 (C) 南 (D) 北。
- () 35. 哪一個點的水量最多？ (A) 甲 (B) 乙 (C) 丙 (D) 丁。



(公民)

選擇題：40 分

- () 36. 下列是曉菁在調查附近鄰居對自家社區的態度，下列哪一位最欠缺身為公民應有的素養？
(A) 王爺爺：我們的社區是附近環境最優美的社區，我很驕傲自己住在這裡 (B) 陳媽媽：我與社區媽媽們總是定期舉辦社區活動，希望藉此影響居民能多重視我們的社區 (C) 張大哥：我從小在這裡長大，對這裡的一草一木都很有感情，我已經認養了社區的花木 (D) 李阿姨：我工作很忙碌，回到家裡都晚上了，關於社區的事情我也無能為力。
- () 37. 以下有關實施學生自治步驟的敘述，請依先後順序排列，下列何者正確？(甲)宣布開會(乙)報告事項(丙)選出主席、司儀及紀錄(丁)討論事項(戊)臨時動議
(A) 甲乙丙丁戊 (B) 乙丁丙甲戊 (C) 乙戊甲丙丁 (D) 丙甲乙丁戊。
- () 38. 開班會時，下列哪些情況適合提出秩序問題來處理？(甲)進行提案表決時，有人突然肚子痛 (乙)提案時，未經附議，便開始表決 (丙)在討論班級烤肉時，有同學發言批評班長不適任 (丁)小慶和阿志在座位上一言不合，大打出手 (A) 甲乙 (B) 乙丁 (C) 乙丙 (D) 甲丁。
- () 39. 社區發展是以「地緣關係」為基礎，透過「行動參與」的方法，來達成「心理社區」的最終目的。由此說明可看出社區發展的核心理念是下列哪一項？
(A) 社區意識 (B) 社區參與 (C) 社區環境 (D) 社區活動
- () 40. 台北市立美術館正舉辦「永遠的他鄉—高更」，美玲和幾位朋友相約去看畫展，實際看到課本中的「三個大溪地人」、「阿爾風景」、「睡在長沙發上的梅德·高更畫像」等油畫，而不在是課文中旁邊的插畫。請問美玲等人是透過怎樣的方式學習？
(A) 上課專心課後複習 (B) 日常生活運用所學
(C) 善用各種輔導工具 (D) 每日留下反省時間
- () 41. 如圖是阿凱公民課上臺報告時所用的海報，請問：阿凱這次報告的主題是下列哪一項？
(A) 有效的學習方法 (B) 正確的學習態度 (C) 良好的學習場所 (D) 多元的學習型態
- 
- () 42. 日本社區的巷道水溝清澈見底，魚兒悠游其中；歐美社區巷弄間花木扶疏，建築立面色彩調和，井然有序，臺灣的民間也希望政府能制定「巷道管理條例」，希望藉此大眾對都市巷道重生更重視。而落實此條例藉由下列哪一個計畫來推動，才能有效且長久？
(A) 生態保育運動 (B) 文化復興運動 (C) 都市計畫運動 (D) 社區總體營造
- () 43. 「霸凌」是學生間惡意欺負的行為，除了肢體上的暴力以外，還有許多形式的欺負行為，請問下列哪一種並非屬於霸凌的種類？
(A) 因同學的性別氣質陰柔，以「娘娘腔」稱呼同學
(B) 為了吸引班上同學的注意，而向同學講黃色笑話
(C) 幫同學整理重點筆記，讓同學在考前複習較容易
(D) 國三學長要國一學弟去福利社買東西給他們享用

- ()44.台西、麥寮以養蚵及養殖漁業聞名，居民大都以養蚵為業。近來，村民因為附近的台塑六輕企業排放廢水，造成近海養蚵都遭到汙染，許多村民的身體也遭到嚴重傷害。日前又因台塑麥寮廠的重大火警導致附近村民嚴重恐慌，村民聚集起來向企業提出抗議，並要求賠償。最後，在縣府及律師的幫忙下，順利和廠商企業取得應有的賠償。因為工廠造成了汙染，居民團結起來向企業進行抗爭，請問以下關於這樣行動的敘述何者正確？
- (A)居民的熱情容易延續下去 (B)居民的行動能力會比較強
(C)源於居民自發的社區意識 (D)容易發生傳承不易的困難
- ()45.「社區規畫師」是民國 88 年由臺北市所創，現在逾二百人授證社區規畫師資格，也完成超過八十個地區環境改造案。當在地居民主動與社區規畫師一起發揮創意與地區關懷時，確實的提升了臺北市環境的生活品質。由此可知，要推動社區發展，其實最主要的關鍵應該是下列哪一項？
- (A)地方政府的補助 (B)居民願意主動參與 (C)在地企業的贊助 (D)居民組成社區組織
- ()46.承上題，「社區規畫師」可和下列哪些社區組織合作，以推動社區發展的相關事務？
- (甲)社區發展協會 (乙)縣市政府 (丙)社區大學 (丁)社區管理委員會
- (A)甲乙 (B)乙丙 (C)甲丁 (D)丙丁
- ()47.小丸子與同學在網路上成立「學習研究部落格」，此區是專門討論正確的讀書學習方法，而下列哪一個同學所提出的方法出現錯誤？
- (A)小玉：課前預習、上課專心聽講、課後複習是有效學習的不二法門
(B)花輪：善用各種輔導學習工具，如：字典、百科全書、圖書館、網際網路等
(C)濱口：讀書重在興趣，只要讀自己感興趣的科目即可
(D)野口：培養與老師、同學討論的習慣，也可組讀書會。
- ()48.社區意識是指居住在同一個地區的人民，對該地區產生一種休戚與共的心理認同感。依上述定義，下列四位參與「全國社區總體營造大會」代表的說法，何者最能反映該社區具有「社區意識」？
- (A) 蔡伊琳：「本區的住戶都是公教人員。」
(B) 周捷輪：「本區是縣內唯一都是原住民居住的社區。」
(C) 林至伶：「本區有一些企業家能提供財源辦理活動。」
(D) 王立弘：「本區的居民都以身為社區的一分子為榮。」
- ()49. 某天在開班會時，同學們正激烈討論學校園遊會攤位的事。宜靜提議砸水球，大雄提議賣乾冰汽水，胖虎提議賣鬆餅，小夫提議賣泡麵。經過充分討論並表決後，主席宣布宜靜的提議以 23 票勝出。但胖虎和部分未參加投票的同學不服決議而吵成一片，導致秩序大亂。此時，主席便大罵：「你們這群白癡，給我閉嘴。」請問對於不參加討論與表決的同學，應該如何處理？
- (A)尊重少數，重新投票 (B)因其藐視班會，以校規處分 (C)此次班會無法有決議，納入下次班會議題 (D)放棄投票權的同學，等於是讓自己的權利睡著了，仍應服從多數的決議。
- ()50.承上題，上文中的主席在主持會議時，應該要注意些什麼？(甲)宣布贊成與反對的票數(乙)主席態度要親切、不可辱罵同學 (丙)主動決定討論的議案(丁)主持表決，但以不參加表決為原則。
- (A)甲乙丙 (B)甲乙丁 (C)乙丙丁 (D)甲丙丁。

()51.電視製作人王偉忠在得知從小生長的建國二村要拆除後，便有了記錄故鄉影像的念頭。「偉忠媽媽的眷村」一片記錄王偉忠一家人對故鄉的深深眷戀，尤其是來臺後即在此住了五十幾年的偉忠媽媽。王偉忠表示：「老兵們當年離鄉背井，攜家帶眷來到臺灣，到最後把臺灣當成自己的家，……眷村把三十五個省分的人集中在一起，形成民族大遷徙的特殊文化。」在建國二村正式拆除後，媽媽特地將老家的門牌帶到新家，並釘在自己的房門上，希望孩子們能永遠記得：「陪伴大家五十幾年的眷村，是永遠不會被拆毀的。」請問：上述的眷村，是由何種關係所形成的社區？

(A)商業利益 (B)血緣關係 (C)地緣關係 (D)房屋樓高。

()52.請問下表有關現代都市社區與傳統鄉村社區的比較圖，哪一項資料產生錯誤？

選項	比較項目	都市社區	鄉村社區
(A)	居民同質性	低	高
(B)	居民流動性	低	高
(C)	居民感情	疏離	濃厚
(D)	例子	永信國大樓	清泉一村

()53.教育部「擴大高中職及五專免試入學實施方案」將是推動十二年國教最重要的基礎，請問「擴大高中職及五專免試入學」的方案，是屬於下列何種教育型態上的改革？

(A)學校教育 (B)社會教育 (C)家庭教育 (D)社區教育。

()54.根據新聞報導：「台南縣 北門鄉農會利用玉港村閒置倉庫籌設蚵灰窯文物館，重新開創蚵灰陶藝產業，並結合濱海漁村和生態資源，開闢新的深度旅遊動線，替漁村注入新活力並開拓商機。」上述農會的做法最能表現出哪一種概念？

(A)社區營造 (B)社區參與 (C)社區文化 (D)社區意識。

()55.現代化的社會中，社區是一個很重要的概念。下列何人對社區的說法是不正確的？

(A)婷婷：「社區的範圍限於哪一鄰、哪一里。」

(B)慧慧：「社區是由居民、社區、共同關係、社區意識及社區組織所構成。」

(C)緯緯：「社區是某一地區的居民透過互動而自然形成的生活圈。」

(D)倫倫：「社區可用來形容一群人情感上的相互認同。」

正興國中 99 學年度第 1 學期第 3 次段考
一年級社會科解答單

歷史科解答

一. 單選題:10%(每題 1 分)

1-5 DBDAC 6-10 CDABC

二. 題組:20%(每題 2 分)

11-15 BCBAD 16-20 CBADA

地理科解答

選擇

21-25 CDDCD 26-28 ADA

題組

(一) 29-30 AB

(二) 31-33 BDA

(三) 34-35 DD

公民科解答

36-40 DDCAC 41-45 ADCBB

46-50 CCDDDB 51-55 CBAAA