

## 高雄市立正興國中 99 學年度第一學期第二次段考 一年級社會科試題

### (歷史)

#### 一、選擇題(每題 2 分，共 30 分)

科目代碼：05

- ( ) 1.小丸子在電腦網路中蒐集一些資料，要在歷史課中進行分組報告，她所寫的資料如下：(甲)唐王賜姓朱，稱「國姓爺」(乙)桂王封他為「延平郡王」(丙)建立台灣第一個漢人政權。依以上內容，研判小丸子的報告主題，應與何人有關？

(A)陳永華 (B)鄭芝龍 (C)鄭成功 (D)鄭經。

- ( ) 2.右圖(一)是清初中國發生內亂，鄭氏趁機出兵中國的路線圖，當時率領軍隊出征的領導人是下列何者？

(A)鄭克塽 (B)施琅 (C)鄭成功 (D)鄭經。

- ( ) 3.王翺祖孫三代世居今高雄一帶，歷經鄭氏父子到清領前期的統治，他們所屬地籍的行政區域更動數次，按照先後順序排列應為？

(A)天興縣→鳳山縣→萬年州 (B)萬年縣→萬年州→鳳山縣 (C)諸羅縣→鳳山州→天興州 (D)台灣縣→萬年縣→彰化縣。

- ( ) 4.歷史課上同學們正在討論著清代台灣開發過程中的「一府二鹿三艋舺」的歷史典故，下列何人的解釋是正確的？

(A)佑均：反映出台灣的開發是由南往北發展的  
 (B)珍倩：和中國從事走私，經由這三個港口出發  
 (C)怡倫：清領前期實施海禁政策，不准和這三個港口從事貿易  
 (D)正雄：將此三地視為和原住民貿易的地點。

- ( ) 5.幼幼一家利用假日到台南一遊，在台南文化局裡，看到一張鄭氏時期軍屯古地圖，興奮的指出並大聲道：「我們家就住在這裡耶！！」請問幼幼家住高雄何處？

(A)新營 (B)左營 (C)左鎮 (D)林鳳營。

- ( ) 6.承上題，鄭氏時期，何以要採取「寓兵於農」的軍屯政策，最主要的目的在於哪項因素？

(A)積極從事國際貿易 (B)解決糧食不足的問題 (C)和原住民搶奪土地宣示主權 (D)擔心荷蘭人再度占領台灣。

- ( ) 7.七年甲班同學趁下課時間，在一起探討清領前期的台灣，有關「渡台禁令」的內容，依你對課文內容的了解，下列何者敘述不正確？

(A)導致台灣當時社會上男女比例失衡 (B)由於「羅漢腳」充斥，社會治安敗壞 (C)造成「有唐山公、無唐山媽」的現象 (D)只要是擁有渡台證照的良民，即可攜眷來台。

- ( ) 8.台灣真正隸屬中國版圖是在中國哪一朝代的時候？

(A)元朝 (B)明朝 (C)清朝 (D)中華民國。

- ( ) 9.«鴨母王»是清康熙末年人，在現今高雄縣內門鄉養鴨為生，將鴨群以治軍方式來管理而著稱，後因事起兵叛變，失敗後被送至北京刑斬，請問：文中的「鴨母王」是指下列何人？

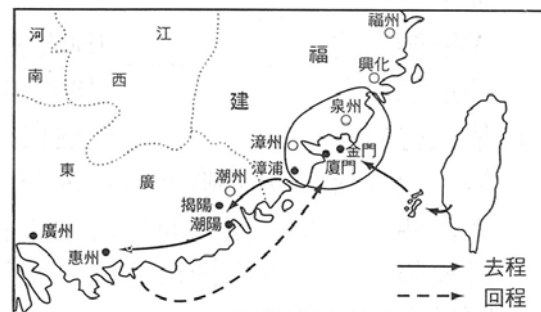
(A)郭懷一 (B)施琅 (C)朱一貴 (D)吳三桂。

- ( ) 10.台中縣石岡鄉有一「土牛國小」存放了一塊「土牛民番地界碑」，請問「土牛」的用意在於？

(A)荷蘭人引進黃牛，為做紀念而稱台灣牛為土牛 (B)台灣早期農民以水牛耕種，為感恩而建「土牛廟」來祭拜 (C)為隔離有狂牛症疫情的牛隻，健康的稱為土牛 (D)為避免漢人與原住民衝突，不讓兩者互相往來，立碑或掘溝堆土。

- ( ) 11.李進是清雍正年間福建移民人，他在右圖(二)的「甲」區一帶從事開墾，因人生地不熟，和在地人林泉發生土地糾紛，請問：李進應找下列哪個政府單位協助處理？

(A)彰化縣 (B)諸羅縣 (C)台灣縣 (D)淡水廳。



圖(一)



圖(二)

- ( )12.曾文才是鄭氏治台時的台灣讀書人，當時他聽友人敘述台灣第一座孔廟已經蓋好了，他立刻啓程去參觀，請問：下列哪一項敘述他「不可能」經歷到？  
 (A)當時孔廟座落於承天府，隸屬東寧王朝 (B)為培育人才，在孔廟內設有「明倫堂」講學地方  
 (C)陳永華積極輔佐鄭經，有「鄭家諸葛」之稱 (D)為了「反清復明」的工作，當時無法實施科舉制度。
- ( )13.鄭氏降清後，施琅上書皇上以何種理由力勸清朝保留台灣？(甲)土地肥沃、物產豐富 (乙)戰略地位重要  
 (丙)台灣原住民漢化很深，以上正確有？ (A)甲乙 (B)乙丙 (C)甲丙 (D)甲乙丙。
- ( )14.瓦歷斯是生長於清領前期台灣原住民，他的祖父和他聊起當時有個漢人吳沙帶了很多漢人到他們村落附近從事開墾，甚至統治當局還在當地設立「官府」，用來處理兩者之間衝突的故事…。這裡所謂的「官府」是指？ (A)淡水廳 (B)諸羅縣 (C)台灣府 (D)噶瑪蘭廳。
- ( )15.小慧利用假日和家人到新竹北埔參觀柿餅製造過程，路程中順便到「金廣福公館」古蹟一遊，經由他父親解釋，他才了解清領時期來台開墾的漢人，在資金的運作上大都採取 (A)合資方式 (B)獨資方式 (C)國營方式 (D)借貸方式 開墾為主。

## 二、題組(每題 2 分 共 10 分)

(一)郭靖是清領前期，位於台南安平地區的富商，育有二女，大女兒以門當戶對的方式嫁到彰化當地有名的施姓大地主當媳婦，他和親家保持非常密切往來。郭老闆為了貿易方便，加入了一種「郊」的商業組織，他經常和同業將台灣糖賣到福建泉州一帶，再將中國布匹運回台南轉賣，生意非常興隆，請問：

( )16.以題示所述，郭靖從事貿易因而加入多種「郊」的商業組織，但下列哪一項組織他可能「沒有」參與？  
 (A)北郊 (B)南郊 (C)糖郊 (D)布郊。

( )17.他的親家，施姓大地主，家中的田地可能引用右圖(三)中哪一圳的水所灌溉的？  
 (A)甲—瑠公圳 (B)乙—八堡圳 (C)丙—曹公圳 (D)丁—鳳山圳。

( )18.承上題，此一圳是引用哪一條溪流的水來灌溉農田？  
 (A)濁水溪 (B)曾文溪 (C)新店溪 (D)高屏溪。



圖(三)

(二)鄭氏時期經營下，台灣的國際貿易繁盛，請問：

( )19.鄭氏時期，積極和鄰近國家從事貿易外，甚是和歐洲哪一國商人有過通商條約的簽訂？ (A)美國 (B)英國 (C)西班牙 (D)葡萄牙。

( )20.下列表格是有關「鄭氏↔清領時期」台灣經濟貿易的資料，請問哪一項內容敘述有「誤」？  
 (A)甲 (B)乙 (C)丙 (D)丁。

	主要輸出物品	主要輸入物品
鄭氏時期	(甲)稻米、蔗糖	(乙)軍用物資、布料
清領前期	(丙)稻米、蔗糖	(丁)藥材、紡織品

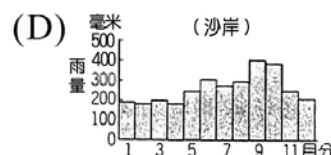
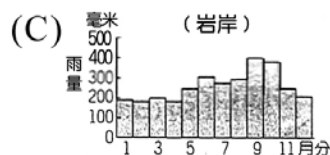
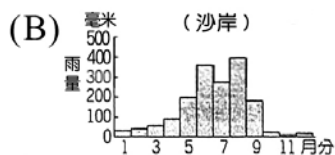
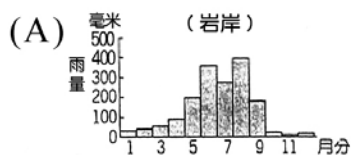
## (地理)

### 一、選擇題：(26%，每題 2 分)

( )21.台灣是由許多大大小小的島嶼所組成，除了台灣本島之外，尚有許多離島，有關這些離島的敘述，何者「有誤」？ (A)農業發展不易 (B)水源不足 (C)按照島嶼形成的原因來分類，以大陸島距離台灣最遠 (D)有些離島雖然面積小，但在經濟發展上具重要地位

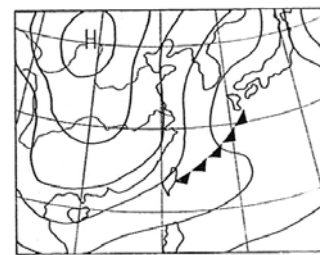
( )22.下列何者「不是」影響台灣氣候的主要因素？ (A)季風 (B)距海遠近 (C)緯度 (D)地形

( )23.下列何圖所示最能代表台灣傳統曬鹽業分布地區之景觀？ (A)A (B)B (C)C (D)D



( )24.台灣平均年雨量約有 2500 毫米，總雨量充足，屬非常濕潤之氣候，但仍會發生乾旱缺水之現象，主要原因是 (A)受全球溫室效應的影響 (B)水庫興建數量不敷使用 (C)降雨的時空分布不均 (D)森林濫墾造成氣候失調

( )25.右圖(一)為台灣某時間的地面天氣圖，則該時間最有可能從事的防災工作是哪一方面？ (A)養殖漁業和農業防備寒流來襲 (B)高屏低窪地區防備海水倒灌 (C)台灣西南沿海防備地層下陷 (D)台南山區防備土石流



圖(一)

( )26.下表(一)為某地某年之氣候資料，請問該地該年之年溫差為何？  
(A)3°C (B)21°C (C)14.5°C (D)16.5°C

▼表(一)


月份	一	二	三	四	五	六	七	八	九	十	十一	十二
氣溫(°C)	15	15.5	17.5	22	25.6	27	29.5	27.5	27	22.5	20.5	18
雨量(mm)	45	80	83	98	220	357	221	325	152	14	18	22

( )27.通常緯度較高的地區氣溫較低，但由表(二)得知，緯度較高的台北，其七月月均溫較緯度較低的高雄還要高，其主要原因為何？ (A)高雄因西南季風影響較涼爽 (B)台北夏季時東北季風弱，故較熱 (C)台北為盆地地形，不易散熱 (D)因溫室效應對緯度較高地區影響較大

▼表(二)

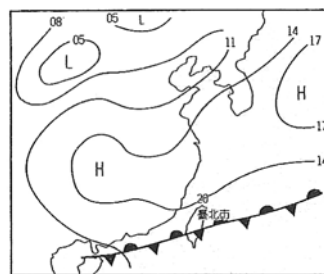
	月均溫	一月月均溫	七月月均溫
城市			
臺北		15.8°C	29.2°C
臺中		16.2°C	28.5°C
高雄		18.8°C	28.9°C

( )28.右圖(二)為某地地面氣象站所設置的「風向計」儀器，此時該風向計所示該地盛行風之風向應是 (A)東風 (B)南風 (C)西風 (D)北風



圖(二)

( )29.台灣的小明某日在電視氣象報導時所出示的地面天氣圖(如圖(三))所示，請問台灣當時的天氣狀況最可能是下列何者？ (A)雷陣雨傾盆而下 (B)颱風來襲 (C)晴朗無雲 (D)梅雨綿綿



圖(三)

二、整合題：(14%，每題 2 分)

(一)右圖(四)為臺灣海岸地形之分段圖。請問：

( )30.圖(四)中哪一段海岸，雖然海水很深，但因為海岸地形平直，仍然缺乏天然良港？

(A)甲 (B)乙 (C)丙 (D)丁

( )31.右圖(五)之圖中地形，出現於圖(四)中之哪一段海岸？

(A)甲 (B)乙 (C)丙 (D)丁

( )32.若圖(四)中之 K 島附近，冬季發生油輪大量漏油事件，則最可能造成的生態災害或經濟損失為何？

(A)沿海珊瑚大量死亡 (B)東岸養殖漁業損失慘重  
(C)琉球嶼地區天降酸雨 (D)基隆漁獲量大量減少



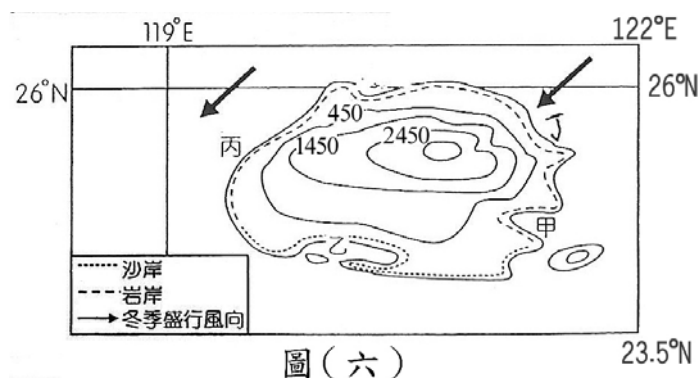
圖(四)



圖(五)

(二)右圖(六)為猛龍島之位置及等高線地形圖。

- ( ) 33. 請問圖中何處最具備興建為天然良港之條件？  
 (A)甲 (B)乙 (C)丙 (D)丁
- ( ) 34. 請問何處為「瀉湖」地形，適合養蚵？  
 (A)甲 (B)乙 (C)丙 (D)丁
- ( ) 35. 該島冬季若出現焚風現象，則由山頂向山下的角度觀看，最可能是出現在哪一方向的山坡面？  
 (A)甲方向 (B)乙方向 (C)丙方向 (D)丁方向



## (公民)

### 單一選擇題 (一題2分，共15題)

- ( ) 36. 「親屬關係」是基於婚姻、血緣或收養所產生的人際關係，上述是法律上的規定，而我國哪一部法典中將「親屬關係」及其權利規定的非常清楚？  
 (A)《家庭教育法》 (B)《民法》 (C)《中華民國憲法》 (D)《兒童及少年福利法》。
- ( ) 37. 根據社會局調查，目前臺北市約有 48.73% 的中小學童，放學後獨自在家，或者沉迷網路和流連網咖，甚至有家長請網咖店員幫忙叮嚀小孩做功課，網咖宛如便宜的安親班。由上可知，北市的雙薪家庭為了增加家庭收入，卻造成下列哪些功能無法發揮？(甲)保護與照顧功能(乙)生育功能(丙)教育功能(丁)經濟功能 (A)甲乙 (B)丙丁 (C)甲丙 (D)乙丁。
- ( ) 38. 立民與毅民兩兄弟在今年六月一同舉辦婚禮，請問：婚禮過後，兄弟倆的新婚妻子之間如何互相稱呼？彼此又產生哪一種親屬關係？  
 (A)連襟、法定血親 (B)姑嫂、姻親 (C)妯娌、姻親 (D)婆媳、姻親。
- ( ) 39. 下列各組稱謂，哪一組親屬組合皆屬於姻親？  
 (A)伯父、祖母、堂哥 (B)外婆、舅媽、阿姨 (C)孫女、姑姑、孀孀 (D)姨丈、姊夫、女婿。
- ( ) 40. 臺灣家庭功能逐漸改變，主要是受到社會變遷的影響，但下列哪一項功能仍未被取代？  
 (A)家庭的照護逐漸由安養機構取代 (B)幼兒的保護照顧功能逐漸被安親班取代 (C)家庭從生產單位逐漸變為消費單位 (D)家庭的生育功能仍無法由其他機構取代。
- ( ) 41. 新婚的阿清和依玲，預計明年為家裡添一個小寶寶，婚後他兩將與阿清的大哥、大嫂、公婆住一起。根據上文的敘述，下列何者正確？(甲)阿清和依玲互為配偶(乙)依玲與阿清的大嫂互稱妯娌(丙)他們組成的家庭稱為折衷家庭(丁)依玲的父母和阿清的父母在法律規定上是沒有關係的。  
 (A)甲乙丙 (B)乙丙丁 (C)甲丙丁 (D)甲乙丁。
- ( ) 42. 隨著社會變遷，家庭也發展出其他的型態，而下列敘述何者錯誤？  
 (A)隔代教養家庭由(外)祖父母照顧(外)孫子女所組成的 (B)新移民家庭夫或妻為外籍人士組成的 (C)重組家庭由父或母其中一方和未婚子女所組成的 (D)頂客家庭由雙薪且不生育子女的夫妻組成的。
- ( ) 43. 下列關於家庭型態與其優點的配對何者正確？  
 (A)大家庭：關係單純，易親近，親屬間衝突可減少 (B)折衷家庭：成員間享有自由和獨立空間 (C)大家庭：成員間有更多經濟及情感上的支援 (D)小家庭：年幼子女或年老父母獲得照料。
- ( ) 44. 我國政府為了提升國人的生育率，提供了「育嬰假」的相關政策，有關「育嬰假」的相關規範內容，下列哪一項有誤？

(A)依據法律	(B)工作年資限制	(C)子女年齡限制	(D)申請人性別限制
《性別工作平等法》	員工工作滿一年後	子女滿2歲以前	不論性別

- ( )45. 下列哪幾項是家庭衝突中，屬於「價值觀和生活習慣」方面的衝突？(甲)父母因子女學業表現而吵架(乙)父母子女因衛生習慣而爭吵(丙)父母因誰倒垃圾而爭吵(丁)夫妻因家庭支出而發生爭執  
(A)丙丁 (B)乙丁 (C)甲丙 (D)甲乙。
- ( )46. 隨著時代改變，現代家庭也面臨了新的難題，而下列何者為現代家庭所面臨的新問題？(甲)少子化問題(乙)兩地家庭增加(丙)老人照顧問題(丁)家庭暴力問題(戊)人口過剩問題  
(A)甲乙丙丁 (B)乙丙丁戊 (C)甲乙丁戊 (D)甲丙丁戊。
- ( )47. 根據內政部的統計資料顯示：2008 年臺灣的育齡婦女總生育率為 1.05 人，老年人口（65 歲以上）比例為 10.43%，已經名列全世界生育率較低及高齡化社會的國家之一。關於上述問題，下列哪一政策並不能產生直接的幫助？ (A) 開辦老人日間照顧中心 (B)規畫完善的社會福利政策 (C)增設公立幼稚園 (D)設立家庭暴力事件服務處。
- ( )48. 高雄市政府為了能讓高雄市民更了解新移民，舉辦新移民藝術節，讓市民從藝文展演活動的欣賞中了解東南亞的風俗民情，並對於東南亞新移民有更深一層的認識。政府為了讓這些新移民融入臺灣社會，還實施了什麼政策措施？  
(A)給予育嬰假 (B)優先承租國宅 (C)開辦「識字班」與「生活適應班」 (D)給予幼兒津貼。
- ( )49. 下列關於《家庭暴力防治法》的敘述，何者錯誤？  
(A)被施暴者可依法聲請保護令 (B)保護令可命令加害人不得靠近被害人 (C)保護令是由縣市政府社會局所核發 (D)為了保護家庭暴力的受害者而制定。
- ( )50. 《民法》中關於子女權益的條文修正後，下列哪一項敘述是錯誤的？  
(A)子女如有被父母家暴、遺棄等情況，可訴請法院免除或減輕扶養義務 (B)當父母對子女相關事項意見不一致時，可向法院請求，依子女的最佳利益決定 (C)法院可依子女的最佳利益來決定監護權 (D)對子女親權的行使，父母意見不一致時，由父行使之。

正興國中 99 學年度第 1 學期第 2 次段考  
一年級社會科解答單

歷史

- 一、 選擇題 (每題 2 分)  
1-5 CDBAB 6-10 BDCCD  
11-15 DDADA
- 二、 題組 (每題 2 分)  
16-20 ABABA

地理

- 一、 選擇題：18%(每題 2 分)  
21~25 CBBCA  
26~29 CCDD
- 二、 整合題：12%(每題 2 分)  
(一)30~32 BAA  
(二)33~35 ABB

公民

- 單一選擇題  
36-40 BCCDD 41-45 DCCCD  
46-50 ADCCD